

MINISTARSTVO ZNANOSTI, OBRAZOVANJA I ŠPORTA REPUBLIKE HRVATSKE
ZAVOD ZA ŠKOLSTVO
HRVATSKO MATEMATIČKO DRUŠTVO

MATEMATIKA

Zadaci za Državno natjecanje učenika
srednjih škola Republike Hrvatske

Omišalj, 4. – 7. svibnja 2005. godine

I. razred

1. Odredite sve brojeve čiji je zapis u dekadskom sustavu oblika $\overline{13xy45z}$, gdje su x , y i z nepoznate znamenke, koji su djeljivi sa 792.
2. Spojnice središta trokutu upisane kružnice i njegovih vrhova dijele ga na tri trokuta od kojih je jedan sličan polaznome. Odredite kutove polaznog trokuta.
3. Koju najveću vrijednost može poprimiti izraz

$$\frac{1}{k} + \frac{1}{m} + \frac{1}{n},$$

ako su k , m , n prirodni brojevi takvi da je $\frac{1}{k} + \frac{1}{m} + \frac{1}{n} < 1$.

4. Duljine stranica trokuta su a , b i c , a R je duljina polumjera opisane mu kružnice. Odredite kutove trokuta ako vrijedi $R = \frac{a\sqrt{bc}}{b+c}$.

Svaki zadatak vrijedi 25 bodova.

Rješenja za I. razred

1. Rastavimo na faktore: $792 = 8 \cdot 9 \cdot 11$.

Iz uvjeta $8 \mid \overline{13xy45z}$ vidimo da 8 dijeli $45z = 450 + z = 448 + (z + 2)$. Dakle, $8 \mid z + 2$, pa je $z = 6$.

Iz uvjeta $9 \mid \overline{13xy456}$ slijedi da 9 dijeli $1 + 3 + x + y + 4 + 5 + 6 = x + y + 19 = 18 + (x + y + 1)$. Dakle, $9 \mid x + y + 1$, pa je $x + y = 8$ ili $x + y = 17$.

Iz uvjeta $11 \mid \overline{13xy456}$ dobivamo da 11 dijeli $6 - 5 + 4 - y + x - 3 + 1 = x - y + 3$, odakle je $x - y = -3$ ili $x - y = 8$.

Imamo dvije mogućnosti:

1° ako je $x + y$ paran broj, onda je $x + y = 8$ i $x - y = 8 \Rightarrow x = 8, y = 0$;

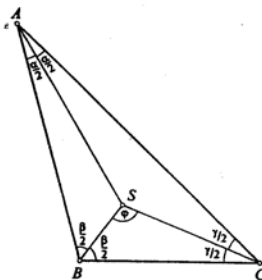
2° ako je $x + y$ neparan broj, onda je $x + y = 17$ i $x - y = -3 \Rightarrow x = 7, y = 10$, što nije znamenka.

Jedino rješenje je broj 1380456.

2. Neka su α, β, γ kutovi danog trokuta ABC i S središte upisane mu kružnice. Spojnice točke S s vrhovima su simetrale kutova trokuta. Kako je

$\sphericalangle SBC = \frac{\beta}{2}$ i $\sphericalangle SCB = \frac{\gamma}{2}$, treći kut u trokutu BSC je

$$\sphericalangle CSB = 180^\circ - \frac{\beta}{2} - \frac{\gamma}{2} = 90^\circ + \frac{\alpha}{2}.$$



Pretpostavimo li da su trokuti ABC i CSB slični, kut CSB mora biti jednak jednom od kutova α, β ili γ . Kada bi bilo $\sphericalangle CSB = \alpha$, bilo bi $90^\circ + \frac{\alpha}{2} = \alpha$, odakle slijedi $\alpha = 180^\circ$, što nije moguće.

Zato može biti samo $\sphericalangle CSB = \beta$ ili $\sphericalangle CSB = \gamma$. Bez smanjenja općenitosti možemo uzeti $\sphericalangle CSB = \beta$. Sada postoje dvije mogućnosti: $\sphericalangle SBC = \alpha$ ili $\sphericalangle SBC = \gamma$.

U prvom slučaju bilo bi $\sphericalangle BCS = \gamma$, tj. $\frac{\gamma}{2} = \gamma$, što nije moguće. Zato mora biti $\sphericalangle SBC = \gamma$ i $\sphericalangle BCS = \alpha$.

Oдавde je $\gamma = 2\alpha, \beta = 2\gamma = 4\alpha$.

Budući je $\alpha + \beta + \gamma = 180^\circ$, dobivamo $\alpha + 2\alpha + 4\alpha = 180^\circ$, odakle je $\alpha = \frac{1}{7} \cdot 180^\circ$,

što daje $\beta = \frac{4}{7} \cdot 180^\circ$ i $\gamma = \frac{2}{7} \cdot 180^\circ$.

3. Označimo $M = \frac{1}{k} + \frac{1}{m} + \frac{1}{n}$. Bez smanjenja općenitosti možemo pretpostaviti $k \leq m \leq n$. Za broj k imamo ove mogućnosti:

1° $k=2$. Kako je $\frac{1}{2} + \frac{1}{2} + \frac{1}{m} > 1$, mora biti $m > 2$.

Ako je $m=3$, iz $\frac{1}{2} + \frac{1}{3} + \frac{1}{n} < 1$ slijedi $\frac{1}{n} < \frac{1}{6}$, pa mora biti $n > 6$. Zato se, u ovom slučaju, najveći broj M dobiva za $n=7$ i on iznosi $\frac{1}{2} + \frac{1}{3} + \frac{1}{7} = \frac{41}{42}$.

Ako je $m=4$, tada iz $\frac{1}{2} + \frac{1}{4} + \frac{1}{n} < 1$ dobivamo $\frac{1}{n} < \frac{1}{4}$, pa je $n > 4$. Broj M će biti najveći za $n=5$: $M = \frac{1}{2} + \frac{1}{4} + \frac{1}{5} = \frac{19}{20}$.

Ako je $m \geq 4$ iz $\frac{1}{2} + \frac{1}{m} + \frac{1}{n} < \frac{1}{2} + \frac{1}{4} + \frac{1}{4} = 1$ i $\frac{1}{n} \leq \frac{1}{m}$ vidimo da će vrijednost od M biti najveća za $n=m=5$; $M = \frac{1}{2} + \frac{1}{5} + \frac{1}{5} = \frac{9}{10}$.

2° $k=3$. Tada za $m=3$ iz $\frac{1}{3} + \frac{1}{3} + \frac{1}{n} < 1$ slijedi $\frac{1}{n} < \frac{1}{3}$ pa je $n > 3$.

Najveća vrijednost broja M postiže se za $n=4$: $M = \frac{1}{3} + \frac{1}{3} + \frac{1}{4} = \frac{11}{12}$.

Ako je $m > 3$, možemo uzeti $n=m$, pa je najveća vrijednost broja M jednaka $\frac{1}{3} + \frac{1}{4} + \frac{1}{4} = \frac{5}{6}$.

3° $k \geq 4$. Možemo uzeti $m = n = k$, pa je najveća vrijednost broja M jednaka $\frac{1}{4} + \frac{1}{4} + \frac{1}{4} = \frac{3}{4}$.

Prema tome, u svim slučajevima, ako za brojeve k, m, n vrijedi $\frac{1}{k} + \frac{1}{m} + \frac{1}{n} < 1$, onda je

$$\frac{1}{k} + \frac{1}{m} + \frac{1}{n} \leq \frac{41}{42}$$

Najveća vrijednost koju dani izraz uz navedene uvjete može poprimiti je $\frac{41}{42}$.

4. Kako je $b+c \geq 2\sqrt{bc}$, to je $\frac{\sqrt{bc}}{b+c} \leq \frac{1}{2}$, pa dani uvjet povlači $\frac{R}{a} \leq \frac{1}{2}$, odnosno, $a \geq 2R$.

No, s druge strane je $a \leq 2R$ jer duljina stranice trokuta ne može biti veća od promjera trokutu opisane kružnice.

Dakle, $a = 2R$. Uvrštavanjem u dani uvjet, dobivamo $\frac{2\sqrt{bc}}{b+c} = 1$, odakle je $(\sqrt{b} - \sqrt{c})^2 = 0$. Dakle, $b = c$.

Iz $b = c$ i $R = \frac{a}{2}$ slijedi da je dani trokut jednakokratan i pravokutan, a duljina hipotenuze mu je a . Njegovi su kutovi $\alpha = 90^\circ$, $\beta = \gamma = 45^\circ$.

MINISTARSTVO ZNANOSTI, OBRAZOVANJA I ŠPORTA REPUBLIKE HRVATSKE

ZAVOD ZA ŠKOLSTVO

HRVATSKO MATEMATIČKO DRUŠTVO

MATEMATIKA

Zadaci za Državno natjecanje učenika
srednjih škola Republike Hrvatske

Omišalj, 4. – 7. svibnja 2005. godine

II. razred

1. Neka su a, b, c realni brojevi, $a \neq 0$. Ako je x_1 jedno rješenje jednadžbe

$$ax^2 + bx + c = 0$$

i x_2 jedno rješenje jednadžbe

$$-ax^2 + bx + c = 0,$$

dokažite da je tada jedno rješenje x_3 jednadžbe

$$\frac{a}{2}x^2 + bx + c = 0,$$

između x_1 i x_2 , tj. $x_1 \leq x_3 \leq x_2$ ili $x_2 \leq x_3 \leq x_1$.

2. Središte U upisane kružnice trokuta ABC spojeno je dužinama s njegovim vrhovima. Neka su O_1, O_2 i O_3 središta kružnica opisanih trokutima BCU, CAU i ABU . Dokažite da kružnice opisane trokutima ABC i $O_1O_2O_3$ imaju zajedničko središte.
3. Ako su a, b i c realni brojevi veći od 1, dokažite da za svaki realni broj r vrijedi nejednakost

$$(\log_a bc)^r + (\log_b ca)^r + (\log_c ab)^r \geq 3 \cdot 2^r.$$

4. Dokažite da u svakom skupu od 11 prirodnih brojeva postoji njih 6, čiji je zbroj djeljiv sa 6.

Svaki zadatak vrijedi 25 bodova.

Rješenja za II. razred

1. Ako je $c = 0$ onda je 0 rješenje svake od ove tri jednadžbe.

Pretpostavimo sada da je $c \neq 0$, pa su $x_1, x_2 \neq 0$.

Promatrajmo kvadratnu funkciju $f(x) = \frac{a}{2}x^2 + bx + c$.

Kako je $ax_1^2 + bx_1 + c = 0$, dobivamo

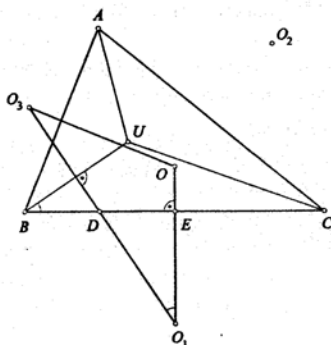
$$f(x_1) = \frac{a}{2}x_1^2 + bx_1 + c = (ax_1^2 + bx_1 + c) - \frac{a}{2}x_1^2 = -\frac{a}{2}x_1^2.$$

Isto tako, zbog $-ax_2^2 + bx_2 + c = 0$, je

$$f(x_2) = \frac{a}{2}x_2^2 + bx_2 + c = (-ax_2^2 + bx_2 + c) + \frac{3a}{2}x_2^2 = \frac{3a}{2}x_2^2.$$

Dakle, $f(x_1)f(x_2) < 0$, pa kvadratna funkcija $f(x) = \frac{a}{2}x^2 + bx + c$ za x_1 i x_2 poprima vrijednosti suprotnih predznaka. Zato postoji rješenje jednadžbe $\frac{a}{2}x^2 + bx + c = 0$, x_3 , takvo da je $x_3 \in (x_1, x_2)$ ili $x_3 \in (x_2, x_1)$. Naime parabola $y = f(x)$ siječe x -os u nekoj točki između $(x_1, 0)$ i $(x_2, 0)$.

2. Kako je U središte upisane kružnice trokutu ABC , njegove spojnice s vrhovima A, B i C raspolavljaju kutove α, β i γ trokuta ABC .



Neka je O središte trokutu ABC opisane kružnice. Kako središte trokutu opisane kružnice leži na simetrali svake njegove stranice, točke O i O_1 leže na simetrali stranice \overline{BC} , pa je OO_1 simetrala stranice \overline{BC} . Slično se vidi da su OO_3 i O_1O_3 simetrale stranica \overline{AB} i \overline{UB} . Budući da su $\sphericalangle UBC$ i $\sphericalangle O_3O_1O$ kutovi s okomitim kracima, vrijedi

$$\sphericalangle UBC = \sphericalangle O_3O_1O \quad \text{tj.} \quad \sphericalangle O_3O_1O = \frac{\beta}{2}.$$

Slično je $\sphericalangle OO_3O_1 = \frac{\beta}{2}$. Odavde slijedi $\sphericalangle O_3O_1O = \sphericalangle OO_3O_1$. Trokut O_1OO_3 je jednakokrakan, tj. $|OO_1| = |OO_3|$. Na isti način se dobije $|OO_1| = |OO_2|$,

tj. $|OO_1| = |OO_2| = |OO_3|$. Zato je točka O središte kružnice opisane trokutu $O_1O_2O_3$.

3. Označimo lijevu stranu sa S . Primjenom A-G nejednakosti dobivamo

$$\begin{aligned} \frac{S}{3} &\geq \sqrt[3]{(\log_a bc)^r \cdot (\log_b ca)^r \cdot (\log_c ab)^r} \\ &= [(\log_a b + \log_a c)(\log_b c + \log_b a)(\log_c a + \log_c b)]^{\frac{r}{3}} \\ &\geq \left[2\sqrt{\log_a b \cdot \log_a c} \cdot 2\sqrt{\log_b c \cdot \log_b a} \cdot 2\sqrt{\log_c a \cdot \log_c b}\right]^{\frac{r}{3}} \\ &= 2^r \cdot [\log_a b \log_b a \cdot \log_a c \log_c a \cdot \log_b c \log_c b]^{\frac{r}{3}} \\ &= 2^r \cdot [1 \cdot 1 \cdot 1]^{\frac{r}{3}} = 2^r. \end{aligned}$$

Oдавде slijedi $S \geq 3 \cdot 2^r$.

4. Uočimo najprije da vrijede tvrdnje:

- (1) U svakom skupu od tri prirodna broja postoje dva čiji je zbroj djeljiv s 2. Naime, u svakom skupu od tri broja postoje dva koja su iste parnosti, pa njihov zbroj paran.
- (2) U svakom skupu od pet prirodnih brojeva mogu se izabrati tri čiji je zbroj djeljiv s 3.

Ako postoje tri broja čiji su ostaci pri dijeljenju s 3 međusobno različiti, njihov je zbroj djeljiv s 3.

Ako ne postoje takva tri broja, onda postoje tri broja s istim ostatkom pri dijeljenju s 3. Tada je njihov zbroj djeljiv s 3.

Dokažimo sada traženu tvrdnju.

Primijenimo li pet puta tvrdnju (1) možemo naći pet parova brojeva takvih da je zbroj brojeva u svakom paru paran. Promatrajući ovih pet parnih zbrojeva, primjenom tvrdnje (2) vidimo da postoje tri čiji je zbroj djeljiv s 3. Oni daju šest brojeva čiji je zbroj djeljiv sa 6.

MINISTARSTVO ZNANOSTI, OBRAZOVANJA I ŠPORTA REPUBLIKE HRVATSKE
ZAVOD ZA ŠKOLSTVO
HRVATSKO MATEMATIČKO DRUŠTVO

MATEMATIKA

Zadaci za Državno natjecanje učenika
srednjih škola Republike Hrvatske

Omišalj, 4. – 7. svibnja 2005. godine

III. razred

1. Nađite sva rješenja $k, l, m \in \mathbb{N}$ jednadžbe:

$$k!! = k! + l! + m!$$

($n!$ označava umnožak prirodnih brojeva od 1 do n .)

2. Upisana kružnica trokuta ABC dodiruje stranice \overline{AC} , \overline{BC} i \overline{AB} redom u točkama M , N i R . Neka je S točka na manjem od dva luka \widehat{MN} i t tangenta na taj luk s diralištem S . Tangenta t siječe \overline{NC} i \overline{MC} redom u točkama P i Q . Dokažite da se pravci AP , BQ , SR i MN sijeku u jednoj točki.
3. Odredite skup svih točaka triedra takvih da je zbroj njihovih udaljenosti od strana triedra jednak zadanom pozitivnom broju a .
4. Pravilni poligon s 2005 stranica ima vrhove obojane crvenom, bijelom i plavom bojom. "Dozvoljenim bojanjem" zovemo bojanje u kojem dva susjedna vrha, koja su obojana različitim bojama, obojimo trećom bojom.
- a) Dokažite da postoji konačan niz "dozvoljenih bojanja" nakon kojeg su svi vrhovi poligona iste boje.
- b) Je li ta boja jednoznačno određena početnim rasporedom boja vrhova?

Svaki zadatak vrijedi 25 bodova.

Rješenja za III. razred

1. Bez smanjenja općenitosti možemo pretpostaviti $k \geq l$. Tada imamo

$$k! = \frac{k!}{l!} + 1 + \frac{m!}{l!}.$$

Kako su tri člana u ovom izrazu cijeli brojevi, mora biti i posljednji, četvrti, dakle vrijedi $m \geq l$. Također zbroj na desnoj strani jednakosti je barem 3, pa je $k \geq 3$ i $k!$ je paran. Stoga je točno jedan od brojeva $\frac{k!}{l!}$, $\frac{m!}{l!}$ neparan.

1. Pretpostavimo $\frac{k!}{l!}$ je neparan i $\frac{m!}{l!}$ paran. Tada je ili $k = l$ ili $k = l + 1$ i l je paran, i nužno je $m \geq l + 1$.

1.1. U prvom slučaju ($k = l$) je $k! = 2 + \frac{m!}{k!}$.

Ako je $k = 3$, rješenje je $k = l = 3$, $m = 4$.

Ako je $k > 3$, onda je $k!$ djeljivo s 3, pa $k! - 2$ nije djeljivo s 3, te je

$m = k + 1$ ili $m = k + 2$. Stoga je $\frac{m!}{k!} = k + 1$ ili $\frac{m!}{k!} = (k + 1)(k + 2)$,

dakle $k! = k + 3$ ili $k! = 2 + (k + 1)(k + 2)$. Provjeravajući vidimo da $k = 4$ i $k = 5$ nisu rješenja, a za još veće vrijednosti od k lijeva strana jednakosti je veća od desne.

1.2. U drugom slučaju ($k = l + 1$ i parni l) moramo riješiti

$$(l + 1)! = l + 2 + \frac{m!}{l!}.$$

Lijeva strana ove jednakosti je djeljiva s $l + 1$, kao i $\frac{m!}{l!}$, pa $l + 2$ mora biti djeljiv s $l + 1$, što je nemoguće.

2. Preostaje slučaj kada je $\frac{k!}{l!}$ paran i $\frac{m!}{l!}$ neparan. Tada je $m = l$ ili $m = l + 1$ i l je paran.

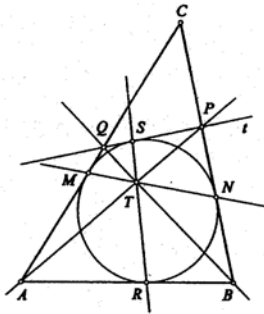
2.1. Ako je $m = l$ jednadžba se svodi na $k!l! = k! + 2l!$, odnosno

$\frac{k!}{l!}(l! - 1) = 2$. Kako je $\frac{k!}{l!}$ paran prirodni broj nužno je $l! - 1 = 1$, odnosno $l = 2$ i $k! = 4$, što je nemoguće.

2.2. Ako je $m = l + 1$ i l paran, jednadžba se svodi na $k!l! = k! + (l + 2)l!$, odnosno $k!(l! - 1) = (l + 2)l!$. Zbog $M(l!, l! - 1) = 1$ slijedi da $l + 2$ mora biti djeljivo s $l! - 1$. To je moguće jedino za $l = 2$ i tada imamo $k! = 8$, što je nemoguće.

Dakle, jedino rješenje je $k = l = 3$, $m = 4$.

2. Neka su T_1 i T_2 točke presjeka pravaca MN i QB , odnosno SR i QB . Ako dokažemo da je $T_1 \equiv T_2$, isto bi vrijedilo kada bi umjesto QB uzeli AP , i tvrdnja bi bila dokazana.



Vrijedi $\sphericalangle T_1MQ = \sphericalangle T_1NC = 180^\circ - \sphericalangle T_1NB$, a također su vršni kutovi $\sphericalangle MT_1Q$ i $\sphericalangle BT_1N$ jednaki. Koristeći poučak o sinusima za trokute MT_1Q i BT_1N imamo

$$\frac{|QT_1|}{|MQ|} = \frac{\sin \sphericalangle T_1MQ}{\sin \sphericalangle MT_1Q} = \frac{\sin (180^\circ - \sphericalangle T_1NB)}{\sin \sphericalangle BT_1N} = \frac{\sin \sphericalangle T_1NB}{\sin \sphericalangle BT_1N} = \frac{|T_1B|}{|BN|}$$

$$\text{odnosno } \frac{|QT_1|}{|BT_1|} = \frac{|MQ|}{|BN|}.$$

Analogno vrijedi $\sphericalangle T_2SQ = \sphericalangle T_2RA = 180^\circ - \sphericalangle T_2RB$ i $\sphericalangle ST_2Q = \sphericalangle RT_2B$, pa primjenom poučka o sinusima na trokute ST_2Q i RT_2B dobivamo

$$\frac{|QT_2|}{|SQ|} = \frac{\sin \sphericalangle T_2SQ}{\sin \sphericalangle ST_2Q} = \frac{\sin (180^\circ - \sphericalangle T_2RB)}{\sin \sphericalangle RT_2B} = \frac{\sin \sphericalangle T_2RB}{\sin \sphericalangle RT_2B} = \frac{|T_2B|}{|BR|}$$

$$\text{odnosno } \frac{|QT_2|}{|BT_2|} = \frac{|SQ|}{|BR|}.$$

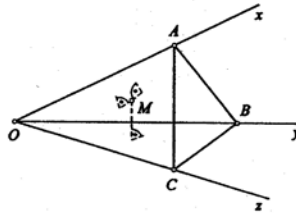
Konačno, zbog $|MQ| = |SQ|$ i $|BN| = |BR|$, slijedi $\frac{|QT_1|}{|BT_1|} = \frac{|QT_2|}{|BT_2|}$, a kako su T_1 i T_2 na \overline{BQ} , slijedi $T_1 \equiv T_2$.

3. Neka je $Oxyz$ dani triedar. Na bridovima Ox , Oy i Oz odaberimo točke A , B i C tako da udaljenost svake od njih do nasuprotne strane triedra bude jednaka a . Tada je volumen piramide $OABC$ jednak

$$V = \frac{1}{3}P(OBC) \cdot a = \frac{1}{3}P(OCA) \cdot a = \frac{1}{3}P(OAB) \cdot a,$$

pa je $P(OBC) = P(OCA) = P(OAB) = \frac{3V}{a}$.

Nadalje, neka je M točka triedra čije su udaljenosti od strana Oyz , Oxz i Oxy redom a_1 , a_2 , a_3 .



Zbroj volumena piramida s vrhom M i bazama OBC , OAC , OAB je

$$\frac{1}{3}P(OBC) \cdot a_1 + \frac{1}{3}P(OCA) \cdot a_2 + \frac{1}{3}P(OAB) \cdot a_3 = \frac{V}{a}(a_1 + a_2 + a_3).$$

Ako volumen tetraedra $MABC$ označimo s V_1 , volumen tetraedra $OABC$ je

$$V = \frac{V}{a}(a_1 + a_2 + a_3) \pm V_1,$$

pri čemu predznak ispred V_1 ovisi o tome s koje strane ravnine ABC se nalazi točka M .

Sada je jasno da iz $a_1 + a_2 + a_3 = a$ slijedi $V_1 = 0$, tj. tada točka M mora pripadati trokutu ABC .

Obratno, ako je točka M unutar tog trokuta ($V_1 = 0$), onda je $a_1 + a_2 + a_3 = a$.

4. a) Označimo boje s 0, 1, 2.

Najprije ćemo pokazati da je četiri vrha uvijek moguće obojati u istu boju nizom dozvoljenih bojanja. Bilo koja četiri vrha s najviše dva dozvoljena bojanja obojimo u dva para istobojnih susjednih vrhova. Ako su ti parovi različite boje (inače smo gotovi) dalje nastavljamo ovako:

$$1122 \rightarrow 1002 \rightarrow 2202 \rightarrow 2112 \rightarrow 0000.$$

Pokažimo da, ako tri susjedna od četiri uzastopna vrha imaju istu boju, onda ih je nizom dozvoljenih bojanja moguće obojati u boju četvrtog vrha (vrhove gledamo u smjeru kazaljke na satu ili obratno):

$$1110 \rightarrow 1122 \rightarrow 1002 \rightarrow 2202 \rightarrow 2112 \rightarrow 0000.$$

Na ovaj način obojimo vrhove A_1, A_2, A_3, A_4 u istu boju, primjerice crvenu, zatim i A_5, A_6, A_7, A_8 . Nakon toga promotrimo A_4, A_5, A_6, A_7 i ako nisu svi crvene boje, onda tri od njih (A_5, A_6, A_7) imaju istu boju i moguće ih

je nizom dozvoljenih bojanja obojiti u crvenu (boju vrha A_4). Nastavimo na isti način dok svi $A_1, A_2, A_3, \dots, A_{2002}$ ne postanu crveni ($2002 = 4 + 3 \cdot 666$). Uzmimo sada vrhove $A_{2003}, A_{2004}, A_{2005}, A_1$ i obojimo ih istom bojom. Ako to nije crvena (inače smo gotovi), nego primjerice plava, uzmimo opet vrhove $A_{2002}, A_{2003}, A_{2004}, A_{2005}$ koje je moguće obojati u crveno. Tako imamo sve crvene vrhove osim vrha A_1 koji je plavi. Krenimo opet od A_1, A_2, A_3, A_4 s bojanjima na isti način (ovaj put u plavo) i sada će nakon 666 koraka sigurno svi vrhovi biti obojani plavom bojom.

b) Sva dopustiva bojanja (tipa $01 \rightarrow 22, 02 \rightarrow 11, 12 \rightarrow 00$), imaju svojstvo da ne mijenjaju u zbroju ostatak pri dijeljenju s 3. Stoga je završna boja jednoznačno određena početnim rasporedom boja vrhova.

MINISTARSTVO ZNANOSTI, OBRAZOVANJA I ŠPORTA REPUBLIKE HRVATSKE

ZAVOD ZA ŠKOLSTVO

HRVATSKO MATEMATIČKO DRUŠTVO

MATEMATIKA

Zadaci za Državno natjecanje učenika
srednjih škola Republike Hrvatske

Omišalj, 4. – 7. svibnja 2005. godine

IV. razred

1. Niz $(a_n)_{n \in \mathbb{N}}$ je zadan rekurzivno s $a_1 = 1$,

$$a_n = a_1 \cdot \dots \cdot a_{n-1} + 1, \quad \text{za } n \geq 2.$$

Odredite najmanji realni broj M takav da je

$$\sum_{n=1}^m \frac{1}{a_n} < M \quad \text{za svaki } m \in \mathbb{N}.$$

2. Neka je P polinom n -tog stupnja čiji su svi koeficijenti nenegativni, a vodeći i slobodni koeficijent jednaki su 1. Uz pretpostavku da su sve nultočke od P realni brojevi, dokažite da za svaki $x \geq 0$ vrijedi $P(x) \geq (x+1)^n$.
3. Dokažite da postoji točno jedan prirodni broj koji se u dekadskom sustavu zapisuje samo znamenkama 2 i 5, ima 2005 znamenaka i djeljiv je s 2^{2005} .
4. Neka je $ABCD$ konveksni četverkut i neka su P i Q redom točke na njegovim stranicama \overline{BC} i \overline{CD} takve da je $\sphericalangle BAP = \sphericalangle DAQ$. Dokažite da trokuti ABP i ADQ imaju jednake površine ako i samo ako je spojnica njihovih ortocentara okomita na pravac AC .

Svaki zadatak vrijedi 25 bodova.

Rješenja za IV. razred

1. Ako relaciju $a_n = a_1 \cdot \dots \cdot a_{n-1} + 1$ podijelimo s $a_1 \cdot \dots \cdot a_n$, dobit ćemo

$$\frac{1}{a_1 \cdot \dots \cdot a_{n-1}} = \frac{1}{a_n} + \frac{1}{a_1 \cdot \dots \cdot a_n},$$

što možemo napisati u obliku

$$\frac{1}{a_n} = \frac{1}{a_1 \cdot \dots \cdot a_{n-1}} - \frac{1}{a_1 \cdot \dots \cdot a_n}.$$

U posljednju jednakost redom uvrstimo $n = 2, 3, \dots, m$ (za bilo koji $m \geq 2$) i zbrojimo sve tako dobivene jednakosti. Primijetimo da će se pokratiti svi pribrojnici osim prvog i posljednjeg tako da ćemo dobiti

$$\sum_{n=2}^m \frac{1}{a_n} = \frac{1}{a_1} - \frac{1}{a_1 \cdot \dots \cdot a_m},$$

tj.

$$\sum_{n=1}^m \frac{1}{a_n} = \frac{2}{a_1} - \frac{1}{a_1 \cdot \dots \cdot a_m} = 2 - \frac{1}{a_1 \cdot \dots \cdot a_m},$$

pa je

$$\sum_{n=1}^m \frac{1}{a_n} < 2 \quad \text{za svaki } m \in \mathbb{N}.$$

Treba još dokazati $M = 2$, tj. da je 2 najmanji broj za koji je $\sum_{n=1}^m \frac{1}{a_n} < M$ za sve $m \in \mathbb{N}$.

Iz definicije niza se vidi $a_n \geq a_{n-1} + 1$, odakle jednostavnom indukcijom slijedi $a_n \geq n$ za svaki prirodni broj n . Zato imamo

$$0 < \frac{1}{a_1 \cdot \dots \cdot a_m} \leq \frac{1}{a_m} \leq \frac{1}{m},$$

za svaki $m \in \mathbb{N}$, odakle slijedi $M = 2$.

2. *Prvo rješenje.* Neka je

$$P(x) = x^n + a_{n-1}x^{n-1} + \dots + a_1x + 1, \quad a_1, \dots, a_{n-1} \geq 0.$$

Za svaki $x \geq 0$ je $P(x) \geq 1 > 0$ pa su sve nultočke od P negativne. Poznato je da polinom n -tog stupnja ima točno n nultočaka (u skupu kompleksnih brojeva), brojenih s odgovarajućim kratnostima. Neka su $-x_1, -x_2, \dots, -x_n$ nultočke od P , pri čemu su $x_1, x_2, \dots, x_n > 0$. Tada vrijedi

$$P(x) = (x + x_1)(x + x_2) \dots (x + x_n).$$

Izjednačavanjem slobodnog člana dobivamo $x_1 x_2 \dots x_n = 1$ pa nejednakost koju trebamo dokazati glasi

$$(x + x_1)(x + x_2) \dots (x + x_n) \geq (x + 1)^n,$$

odnosno

$$\sqrt[n]{(x + x_1)(x + x_2) \dots (x + x_n)} \geq x + 1,$$

uz uvjete $x \geq 0$, $x_1, x_2, \dots, x_n > 0$, $x_1 x_2 \dots x_n = 1$.

Za $x = 0$ imamo čak jednakost, a za $x > 0$ koristimo nejednakost između geometrijske i aritmetičke sredine:

$$\begin{aligned} & \frac{x+1}{\sqrt[n]{(x+x_1)(x+x_2)\dots(x+x_n)}} = \frac{\sqrt[n]{x^n} + \sqrt[n]{x_1 x_2 \dots x_n}}{\sqrt[n]{(x+x_1)(x+x_2)\dots(x+x_n)}} = \\ & = \sqrt[n]{\frac{x}{x+x_1} \cdot \frac{x}{x+x_2} \cdot \dots \cdot \frac{x}{x+x_n}} + \sqrt[n]{\frac{x_1}{x+x_1} \cdot \frac{x_2}{x+x_2} \cdot \dots \cdot \frac{x_n}{x+x_n}} \leq \\ & \leq \frac{1}{n} \left(\frac{x}{x+x_1} + \frac{x}{x+x_2} + \dots + \frac{x}{x+x_n} \right) \\ & \quad + \frac{1}{n} \left(\frac{x_1}{x+x_1} + \frac{x_2}{x+x_2} + \dots + \frac{x_n}{x+x_n} \right) = 1. \end{aligned}$$

Drugo rješenje. Najprije, jednako kao u prethodnom rješenju, zaključimo da P ima negativne nultočke $-x_1, -x_2, \dots, -x_n$ te da vrijedi

$$P(x) = (x+x_1)(x+x_2)\dots(x+x_n).$$

Množenjem i uspoređivanjem koeficijenata (ili korištenjem Vièteovih formula) dobivamo jednakosti:

$$\begin{aligned} a_{n-1} &= x_1 + x_2 + \dots + x_n, \\ a_{n-2} &= x_1 x_2 + x_1 x_3 + \dots + x_{n-1} x_n, \\ &\dots \\ a_1 &= x_1 \dots x_{n-1} + \dots + x_2 \dots x_n, \\ 1 &= x_1 \dots x_n. \end{aligned}$$

Za $k = 1, \dots, n-1$, upotrebom nejednakosti između aritmetičke i geometrijske sredine slijedi

$$a_{n-k} \geq \binom{n}{k} \sqrt[k]{x_1^{\binom{n-1}{k-1}} x_2^{\binom{n-1}{k-1}} \dots x_n^{\binom{n-1}{k-1}}} = \binom{n}{k}.$$

Naime, u jednakosti za a_{n-k} na desnoj strani ima $\binom{n}{k}$ pribojnika, a svaki x_i se pojavljuje $\binom{n-1}{k-1}$ puta (jer na toliko načina možemo odabrati preostalih $k-1$ faktora u produktu).

Preostaje iskoristiti dobivene nejednakosti za koeficijente i binomni teorem:

$$\begin{aligned} P(x) &= x^n + a_{n-1}x^{n-1} + a_{n-2}x^{n-2} + \dots + a_1x + 1 \geq \\ &\geq x^n + \binom{n}{1}x^{n-1} + \binom{n}{2}x^{n-2} + \dots + \binom{n}{n-1}x + 1 = (x+1)^n, \end{aligned}$$

za svaki $x \geq 0$.

Napomena. Nije teško vidjeti da se jednakost postiže samo kad je $x = 0$ ili $x_1 = x_2 = \dots = x_n = 1$, tj. $P(x) \equiv (x+1)^n$.

3. Matematičkom indukcijom pokazujemo da za svaki $n \in \mathbb{N}$ postoji točno jedan prirodni broj x_n koji se u dekadskom sustavu zapisuje samo znamenkama 2 i 5, ima n znamenaka i djeljiv je s 2^n .

Npr. za $n = 1, 2, 3$ to su brojevi 2, 52, 552. Time je ujedno provjerena baza indukcije.

Za korak indukcije pretpostavimo da je x_n jedinstveni prirodni broj sa znamenkama 2 i 5, koji ima n znamenaka i djeljiv je s 2^n . Brojevi

$$2 \cdot 10^n + x_n \quad \text{i} \quad 5 \cdot 10^n + x_n$$

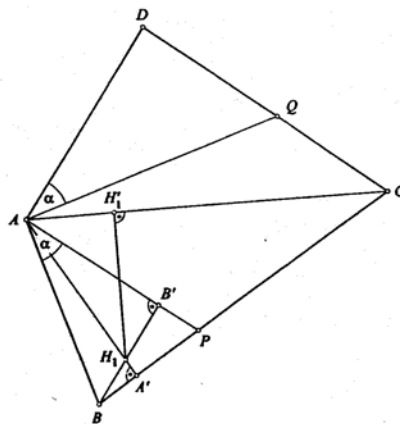
se dobivaju tako da broju x_n s lijeve strane dopišemo znamenku 2 odnosno 5. Oni su očigledno djeljivi s 2^n , a točno jedan od njih je djeljiv s 2^{n+1} i njega uzimamo za x_{n+1} . Naime,

$$\frac{5 \cdot 10^n + x_n}{2^n} - \frac{2 \cdot 10^n + x_n}{2^n} = 3 \cdot 5^n,$$

što je neparan broj pa je točno jedan od brojeva $\frac{2 \cdot 10^n + x_n}{2^n}$ i $\frac{5 \cdot 10^n + x_n}{2^n}$ paran.

Za dokaz jedinstvenosti još samo primijetimo da u svakom $(n+1)$ -znamenkastom broju djeljivom s 2^{n+1} i sa znamenkama 2 i 5 mora na zadnjih n mjesta pisati upravo broj x_n , tj. on mora biti jednak $2 \cdot 10^n + x_n$ ili $5 \cdot 10^n + x_n$.

4. Neka su H_1 i H_2 ortocentri trokuta ABP i ADQ , te neka su H'_1 i H'_2 njihove ortogonalne projekcije na pravac AC . (Uočimo da H'_1 i H'_2 zapravo leže negdje na polupravcu s početkom u A kroz točku C .) Pravci H_1H_2 i AC su okomiti ako i samo ako je $H'_1 = H'_2$, tj. ako i samo ako je $|AH'_1| = |AH'_2|$.



Koristit ćemo pojam potencije točke u odnosu na kružnicu, odnosno sljedeće svojstvo, koje se lako dokazuje:

Lema. Ako se tetive \overline{AB} i \overline{CD} sijeku u točki T , vrijedi

$$|TA| \cdot |TB| = |TC| \cdot |TD|.$$

Označimo redom s A' i B' nožišta visina iz vrhova A i B u trokutu ABP . Zbog $\sphericalangle CH_1H_1 = \sphericalangle CA'H_1 = 90^\circ$ i $\sphericalangle PA'H_1 = \sphericalangle PB'H_1 = 90^\circ$ su četverokuti CH_1H_1A' i $PB'H_1A'$ tetivni, promatranjem potencije točke A obzirom na njima opisane kružnice dobivamo

$$|AH'_1| \cdot |AC| = |AH_1| \cdot |AA'| = |AB'| \cdot |AP|.$$

Ako označimo $\sphericalangle BAP = \sphericalangle DAQ = \alpha$, nadalje imamo

$$|AB'| \cdot |AP| = |AB| \cos \alpha \cdot |AP| = \frac{1}{2} |AB| |AP| \sin \alpha \cdot 2 \operatorname{ctg} \alpha = 2 P(ABP) \operatorname{ctg} \alpha$$

pa smo dobili

$$|AH'_1| = \frac{2 P(ABP) \operatorname{ctg} \alpha}{|AC|},$$

a analogno se izvodi jednakost

$$|AH'_2| = \frac{2 P(ADQ) \operatorname{ctg} \alpha}{|AC|}.$$

Zato je $|AH'_1| = |AH'_2|$ ako i samo ako je $P(ABP) = P(ADQ)$.